


# Enigmes AVRIL

*La fin du concours approche, il ne reste plus que les énigmes d'avril et de mai donc c'est le moment de tout donner même si ça se complique !!*

**Enigme 1 :** Trouvez le nombre d'œufs représentés dans cette figure

Réponse : .....




# Enigmes AVRIL

*La fin du concours approche, il ne reste plus que les énigmes d'avril et de mai donc c'est le moment de tout donner même si ça se complique !!*

**Enigme 1 :** Trouvez le nombre d'œufs représentés dans cette figure

Réponse : .....



**Enigme 2 :** Voilà de drôles d'égalités...à compléter.

Première série :

$$5 + 2 = 37$$

$$7 + 6 = 113$$

$$6 + 4 = 210$$

$$8 + 5 = 313$$

$$10 + 6 = ?$$

Deuxième série :

$$111 = 11$$

$$323 = 318$$

$$502 = 20$$

$$718 = 856$$

$$439 = ?$$

Réponse : .....

Réponse : .....

**Enigme 2 :** Voilà de drôles d'égalités... à compléter.

Première série :

$$5 + 2 = 37$$

$$7 + 6 = 113$$

$$6 + 4 = 210$$

$$8 + 5 = 313$$

$$10 + 6 = ?$$

Deuxième série :

$$111 = 11$$

$$323 = 318$$

$$502 = 20$$

$$718 = 856$$

$$439 = ?$$

Réponse : .....


Réponse : .....

**Enigme 3 :** Complète la phrase suivante avec un nombre écrit en toutes lettres pour qu'elle soit vraie :

« Cette phrase contient exactement .....  
..... lettres. »

**Enigme 3 :** Complète la phrase suivante avec un nombre écrit en toutes lettres pour qu'elle soit vraie :

« Cette phrase contient exactement .....  
..... lettres. »



Prénom et Nom : .....

Classe : .....

A déposer dans une urne avant de partir en vacances, vendredi 10 avril.



Prénom et Nom : .....

Classe : .....

A déposer dans une urne avant de partir en vacances, vendredi 10 avril.